

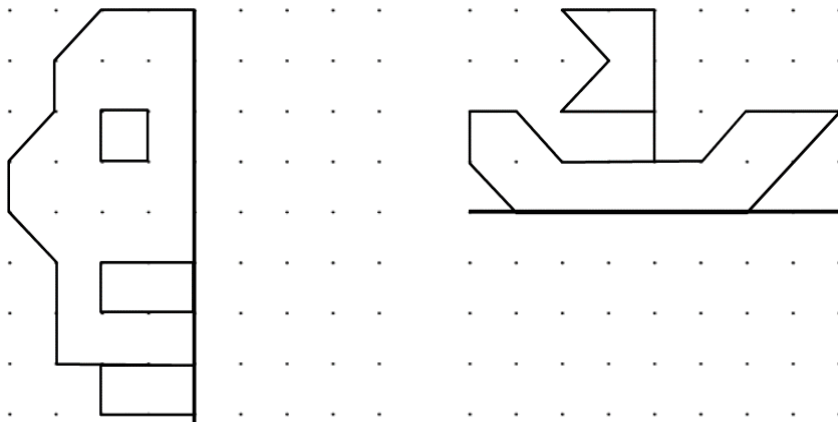


1. Φέρε από έναν τουλάχιστον άξονα συμμετρίας στα παρακάτω σχήματα:



2. Συμπλήρωσε τα παρακάτω σχήματα ώστε να γίνουν συμμετρικά:



3. Φέρε ένα τουλάχιστον άξονα συμμετρίας στα παρακάτω σχήματα:


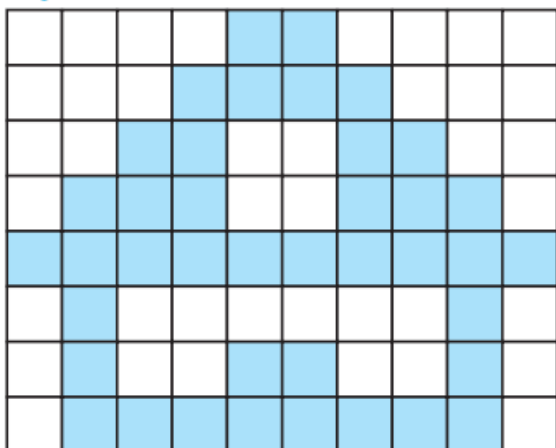


Φέρε, σε όσα από τα παρακάτω γράμματα έχουν, από έναν άξονα συμμετρίας:

Α Β Γ Δ Ε Ζ Η Θ
 Ι Κ Λ Μ Ν Ξ Ο Π
 Ρ Σ Τ Υ Φ Χ Ψ Ω

4

Προσπάθησε να αντιγράψεις την εικόνα στο διπλανό πλέγμα:



5. Στα παρακάτω σχήματα να χαράξεις τους άξονες συμμετρίας:

