




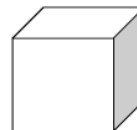


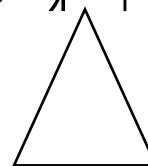

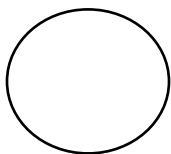
Όνομα: \_\_\_\_\_ Τάξη: \_\_\_\_\_

## Σχήματα-Περίμετρος- Ώρα


1. Να μετρήσεις τις πλευρές του κάθε σχήματος (με το χάρακα σου) και να βρεις την περίμετρό του.



2. Να γράψεις κάτω από κάθε σχήμα το όνομά του (τρίγωνο, ορθογώνιο, κύκλος, κύβος, ορθογώνιο παραλληλεπίπεδο, κύλινδρος).




Να δείξεις στο ρολόι την ώρα που γράφεται από κάτω. Να θυμάσαι ότι ο μικρός δείκτης δείχνει την ώρα και ο μεγάλος τα λεπτά




10:25



2:35



5:45



7:30